

# MY CLASSROOM 電子試卷④

## 小學五年級 全學年 數學科

姓名：\_\_\_\_\_

班別：\_\_\_\_\_ ( )

分數：

／50

一、計算下列各題。(16% @2%)

1.  $\frac{2}{3} + 1\frac{1}{4} - \frac{5}{6} =$  \_\_\_\_\_

2.  $1\frac{7}{8} \times \frac{4}{5} =$  \_\_\_\_\_

3.  $45.1 + 0.88 + 11.7 =$  \_\_\_\_\_

4.  $34.9 - 16.2 =$  \_\_\_\_\_

5.  $8.05 \times 13 =$  \_\_\_\_\_

6.  $7.82 \times 5.3 =$  \_\_\_\_\_

7.  $5\frac{1}{4} \div 3 =$  \_\_\_\_\_

8.  $2\frac{7}{10} \div 1\frac{4}{5} =$  \_\_\_\_\_

二、回答下列各題。(22% @2%)

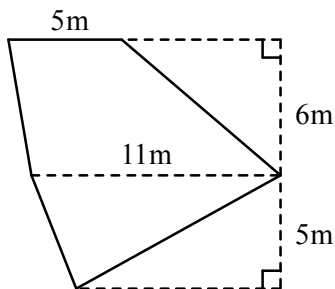
1. 解方程：

$$7h = 5$$

$$h =$$

2. 小慧面向東北方，她向右轉一個直角後面向\_\_\_\_\_方。

3.

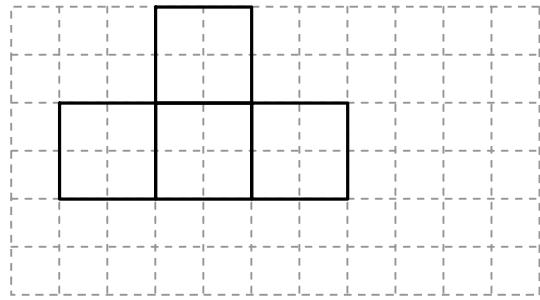


左面圖形的面積是\_\_\_\_\_  $\text{cm}^2$ 。

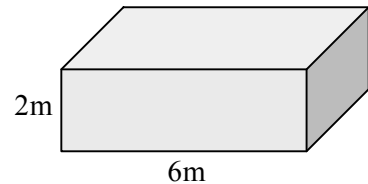
4. \* 三角柱體 / 四角錐體 有兩個底面。

\* (圈出正確的答案)

5. 完成以下正方體的摺紙圖樣。



6. 右面的長方體長 6m，高 2m，體積是  $36\text{m}^3$ ，它的闊是多少？



答案：\_\_\_\_\_m

7. 王老師把一些學生分成 6 組，每組派發  $x$  張手工紙，共有手工紙多少張？

A.  $6x$  張

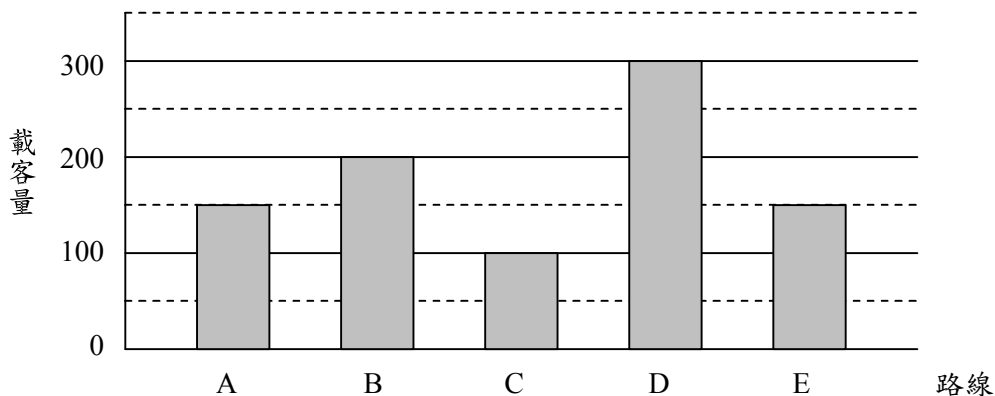
B.  $(6 + x)$  張

C.  $(x - 6)$  張

D.  $\frac{x}{6}$  張

根據以下的統計圖，回答第 8 至 10 題。

五條巴士路線昨天平均每小時的載客量

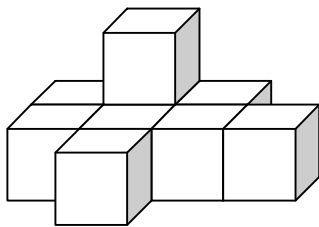



8. 路線\_\_\_\_\_昨天的總載客量最少。

9. 路線\_\_\_\_\_和路線\_\_\_\_\_昨天平均每小時的載客量相若。

10. 路線 B 昨天平均每小時的載客量約是路線 D 的  $\frac{\quad}{\quad}$ 。


11.



上面每個  的體積是  $8\text{cm}^3$ ，整個立體的體積是 \_\_\_\_\_  $\text{cm}^3$ 。

三、列式計算下列各題。(12% @4%)

1. 一盒雪糕原有 2 升，哥哥和妹妹分別吃去  $\frac{3}{4}$  升和  $1\frac{1}{5}$  升後，餘下雪糕多少升？

2. 一塊手錶重 52.6 克，一部手提電話的重量是手錶的 3 倍，即一部手提電話重多少克？

3. 一包糖果，平均分給 5 人，每人剛好可得 4 顆。這包糖果原有多少顆？  
(用方程計算)