

MY CLASSROOM 電子試卷④

小學三年級 全學年 數學科

姓名：_____

班別：_____()

分數：

／50

一、計算下列各題。(16% @2%)

1. $3674+2988 =$ _____

2. $874-(154+36) =$ _____

3. $3345-1047+6218 =$ _____

4. $7210-5923 =$ _____

5. $42\times 5 =$ _____

6. $54\div 5 =$ _____

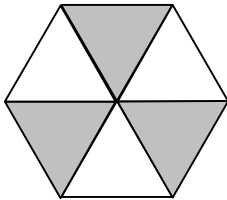
7. $804\div 6 =$ _____

8. $6\times(152-66) =$ _____

二、回答下列各題。(22% @2%)

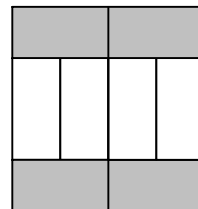
1. 寫出下圖陰影部分佔全圖的幾分之幾？

(a)



答案：_____

(b)



答案：_____

2. 右面是叔叔開始練習跑步的時間。他在

_____ 午 _____ 時 _____ 分開始

練習。



3. 填上適當的度量單位。

(a) 一個水桶的容量約是 6 _____。

(b) 一塊玻璃約厚 2 _____。

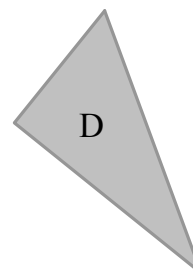
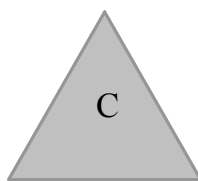
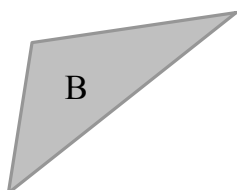
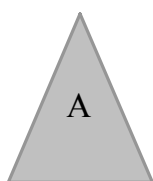
(c) 一條海底隧道約長 2 _____。

4. 以下哪項對右圖的描述是錯誤的？

- A. 它是一個平行四邊形
- B. 對邊的長度相等
- C. 有四個直角
- D. 對邊平行



5.



(a) 圖_____是等邊三角形。

(b) 圖_____是直角三角形。


6. 老師統計了三甲班學生參加課外活動的人數，結果如下：

活動	美勞班	詩歌班	游泳隊	籃球隊	舞蹈組
人數	6	4	7	8	6

根據結果，填色完成下面的方塊圖。

三甲班學生參加課外活動的人數

每格代表 1 人



7. 在方格內繪畫出一個銳角。



三、列式計算下列各題。(12% @4%)

1. 本月有 4602 人參加本地旅遊團，比上月多 2138 人。兩個月共有多
少人參加本地旅遊團？

2. 把 152 張手工紙分給學生，如果每人分 6 張，共可分給多少名學生？

3. 西餅店今天售出 26 件西餅，
共收得多少元？

