

# MY CLASSROOM 電子試卷③

## 小學五年級 下學期 數學科

姓名：\_\_\_\_\_

班別：\_\_\_\_\_( )

分數：

／50

### 考核重點：

1. 小數加法、減法和乘法
2. 分數除法
3. 立體圖形

一、計算下列各題。(16% @2%)

1.  $2.56+3.47 =$  \_\_\_\_\_

2.  $15-8.22 =$  \_\_\_\_\_

3.  $6\times 7.02 =$  \_\_\_\_\_

4.  $4.8\times 7.5 =$  \_\_\_\_\_

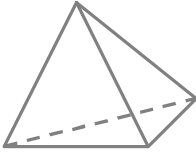
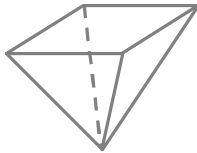
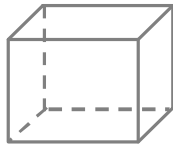
5.  $13.25+1.4+5.33 =$  \_\_\_\_\_

6.  $23.3-6.5-11.61 =$  \_\_\_\_\_

7.  $9\frac{1}{3}\div 7 =$  \_\_\_\_\_

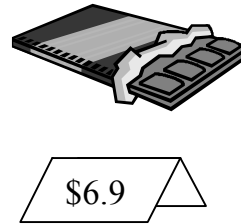
8.  $8\frac{1}{6}\div 4\frac{2}{3} =$  \_\_\_\_\_

二、完成下列表格。(12% @1%)

			
立體的名稱	1.	5.	9.
面的數目	2.	6.	10.
底面的形狀	3.	7.	11.
側面的形狀	4.	8.	12.

三、回答下列各題。(10% @2%)

1. 媽媽到超級市場購物。



(a) 她付一張二十元紙幣買一盒果汁，應找回多少元？

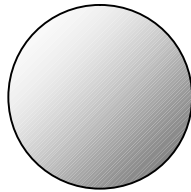
答案：應找回\_\_\_\_\_元。

(b) 4 排巧克力共值多少元？

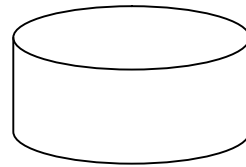
答案：共值\_\_\_\_\_元。

2. 以下哪個立體不能滾動？

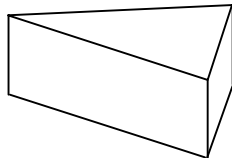
A.



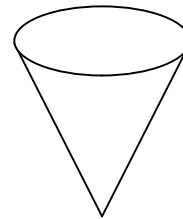
B.



C.



D.



3. 媽媽買了 5 個花盆，共重  $8\frac{3}{4}$  公斤，一個花盆重多少公斤？

A.  $1\frac{3}{4}$  公斤

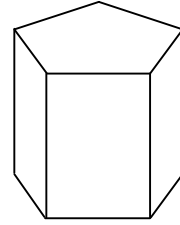
B.  $1\frac{1}{4}$  公斤

C.  $2\frac{3}{4}$  公斤

D.  $1\frac{3}{5}$  公斤

4. 右面的五角柱體共有多少個面?

答案：\_\_\_\_\_個



四、列式計算下列各題。(12% @4%)

1. 寄一張聖誕卡到美國需付 3.1 元郵費，月勤寄了 12 張聖誕卡到美國，共付了郵費多少元?

2. 哥哥的體重是 32.25 公斤，比弟弟輕 3.27 公斤，弟弟的體重是多少公斤?

3. 每瓶汽水有  $1\frac{1}{2}$  升，現有一些容量各是  $\frac{1}{4}$  升的杯子，這瓶汽水可倒滿這些杯子多少個?