

MY CLASSROOM 電子試卷③

小學三年級 下學期 數學科

姓名：_____

班別：_____()

分數：

／50

考核重點：

1. 括號的認識
2. 加減、乘加、乘減混合計算
3. 24小時報時制
4. 角
5. 三角形

一、計算下列各題。(16% @2%)

1. $30 - (12 + 8) =$ _____

2. $25 \times 3 - 36 =$ _____

3. $110 + 18 \times 4 =$ _____

4. $(13 + 34) \times 3 =$ _____

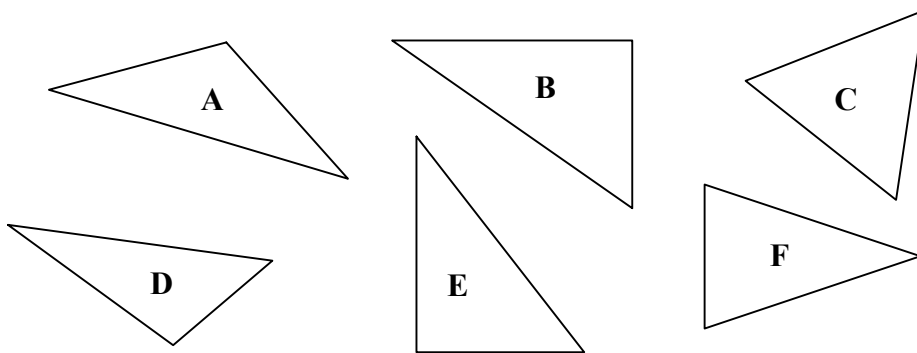
5. $8 \times (37 - 11) =$ _____

6. $(200 - 179) \times 5 =$ _____

7. $6 \times (212 + 37) =$ _____

8. $500 - 27 \times 7 =$ _____

二、把三角形分類。(6%，每個答案 1%)



1. 直角三角形：_____

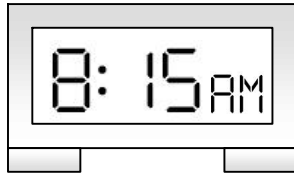
2. 等邊三角形：_____

3. 等腰三角形：_____

4. 不等邊三角形：_____

三、回答下列各題。(16% @2%)

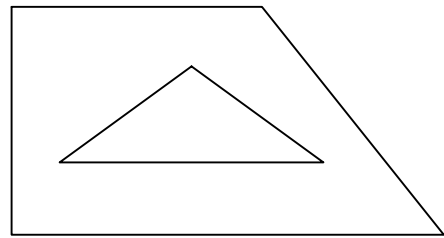
1. 用 24 小時報制寫出數字鐘顯示的時間。



答案：_____

2. 在右圖中，

- (a) 共有_____個鈍角，
- (b) 共有_____個銳角，
- (c) 共有_____個直角。



3. 在下面的方格繪畫一個銳角。




4. 以下哪種三角形的三條邊的長度相等？

- A. 等腰三角形
- B. 直角三角形
- C. 等邊三角形
- D. 等腰直角三角形

5.

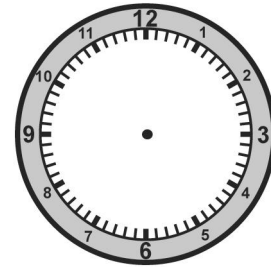


我有 50 元，想買三個鐵
甲人還欠_____元。



\$19

6. 現在是 17 時 30 分，在鐘面上繪畫出
時針和分針顯示半小時後的時間。



四、列式計算下列各題。(12% @4%)

1. 弟弟有 23 枚郵票，哥哥有的郵票數量是弟弟的 4 倍，他們共有郵票多少枚？

2. 甲城有 4531 名女市民和 3756 名男市民。甲城 30 歲或以下的市民有 2765 名，30 歲以上的市民有多少名？

3. 一本中文故事書售 25 元，比一本英文故事書便宜 14 元。媽媽買了 7 本英文故事書，共需付多少元？