

MY CLASSROOM 電子試卷②

小學六年級 上學期 數學科

姓名：_____

班別：_____()

分數：

50

一、計算下列各題。(16% @2%)

1. $79 \div 5 =$ _____

2. $23 \div 1.6 =$ _____

3. $34.65 \div 2.1 =$ _____

4. $85.02 - 3.4 \times 9.3 =$ _____

5. $132.24 \div 15.2 + 7.91 =$ _____

6. $0.68 =$ _____%

7. $\frac{5}{8} =$ _____%

8. $28\% = \frac{\boxed{}}{\boxed{}}$ (約至最簡)

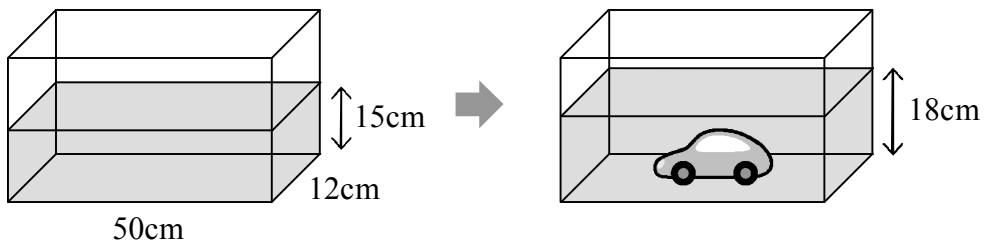
二、回答下列各題。(20% @2%)

1. 把下列各數由大至小排列出來。

$\frac{8}{7}$, 1.22, $1\frac{7}{13}$

答案：_____, _____, _____
(最大) (最小)

2.




玩具車的體積是_____ cm^3 。

3. 柱體頂的數目是底邊數目的_____倍。

4. 右圖陰影部分佔全圖的百分之幾?

答案：_____%



5. 以下哪個數的數值最大？

A. 46%

B. $\frac{2}{5}$

C. 0.45

D. $\frac{3}{7}$

6. 12、7、8、0 和 5 的平均數是_____。

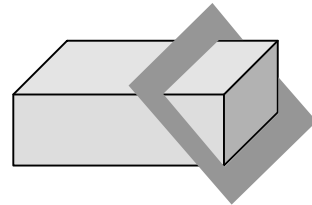
7. 右面立體沿切板的截面形狀是什麼？

A. 四邊形

B. 五邊形

C. 六邊形

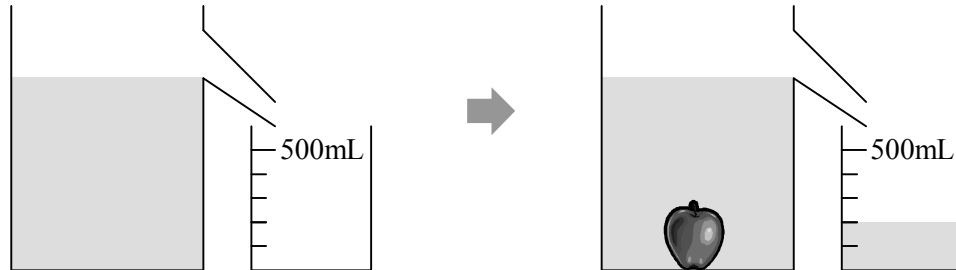
D. 三角形



8. 學校籃球隊五名隊員的平均身高是 180cm，其中四名隊員分別身高 168cm、177cm、186cm 和 192cm，餘下的一名隊員身高_____cm。

9. 錐體稜的數目是底邊數目的_____倍。

10.

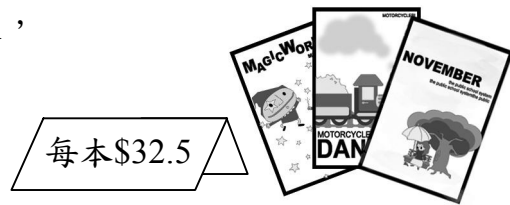


蘋果的體積是_____ cm^3 。

三、列式計算下列各題。(8% @4%)

1. 一箱西瓜有 4 個，共重 12.5 公斤，平均每個西瓜重多少公斤？

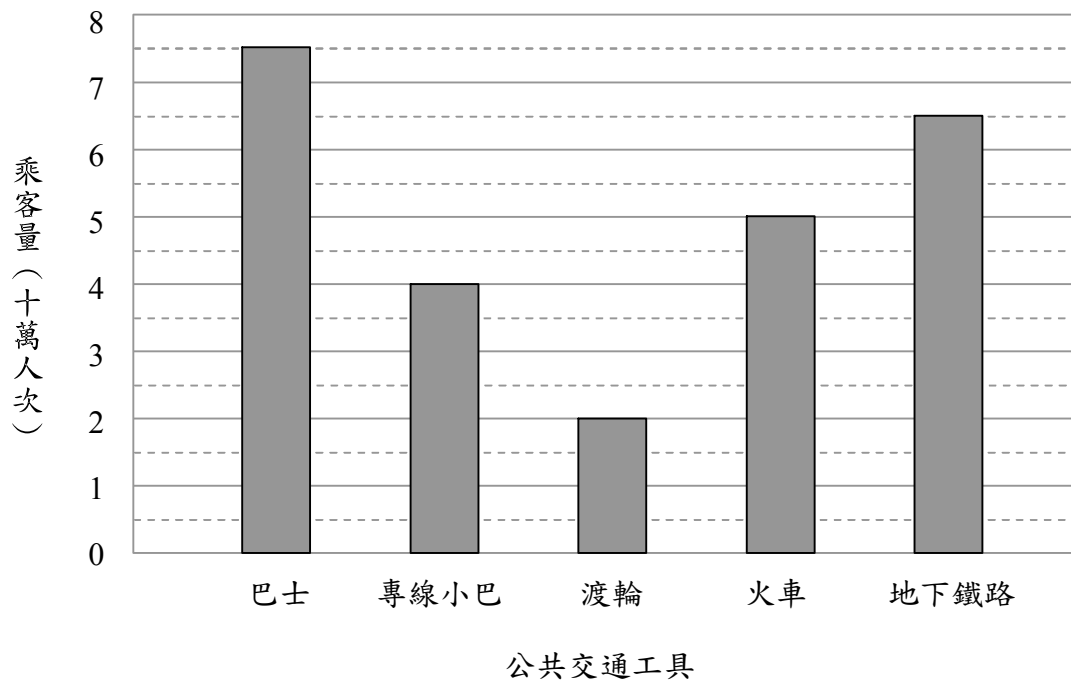
2. 子健原有 138.4 元，買了三本故事書後，
餘下多少元？



四、根據棒形圖，回答下列問題。(6% @2%)

下圖顯示 A 城市上月各種公共交通工具的乘客量：

A 城市上月各種公共交通工具的乘客量



- 巴士和 _____ 的乘客量相差最大，相差 _____ 萬人次。
- 專線小巴的乘客量是火車的 _____ 分之 _____。
- 上月平均每種公共交通工具的乘客量是 _____ 萬人次。