

# MY CLASSROOM 電子試卷②

## 小學五年級 上學期 數學科

姓名：\_\_\_\_\_

班別：\_\_\_\_\_( )

分數：

／50

一、計算下列各題。(16% @2%)

1.  $\frac{2}{3} + \frac{1}{6} =$  \_\_\_\_\_

2.  $\frac{2}{3} + 1\frac{1}{12} =$  \_\_\_\_\_

3.  $\frac{13}{21} - \frac{1}{7} =$  \_\_\_\_\_

4.  $6\frac{1}{2} - \frac{1}{12} =$  \_\_\_\_\_

5.  $\frac{8}{9} + 3\frac{1}{11} - \frac{2}{9} =$  \_\_\_\_\_

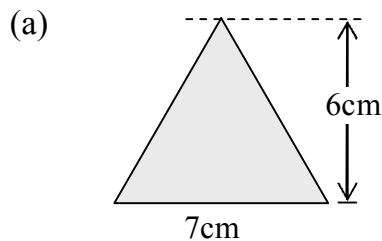
6.  $5\frac{2}{7} - \frac{1}{14} + 1\frac{1}{2} =$  \_\_\_\_\_

7.  $\frac{6}{7} \times \frac{1}{3} =$  \_\_\_\_\_

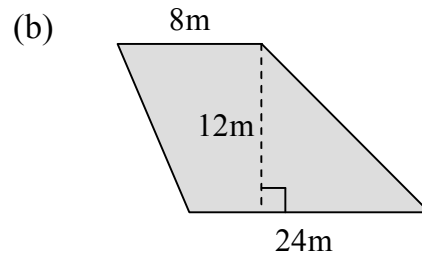
8.  $5\frac{1}{16} \times \frac{4}{5} =$  \_\_\_\_\_

二、回答下列各題。(16% @2%)

1. 計算下列各圖形的面積。



答案：\_\_\_\_\_  $\text{cm}^2$



答案：\_\_\_\_\_  $\text{m}^2$

2. 哥哥體重  $t$  公斤，比弟弟重 5 公斤，爸爸的體重是弟弟的兩倍。爸爸體重多少公斤？

A.  $(2t+5)$  公斤

B.  $2(t+5)$  公斤

C.  $(2t-5)$  公斤

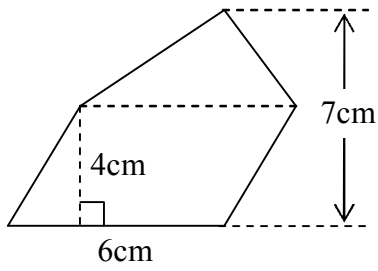
D.  $2(t-5)$  公斤

3. 用中國數字寫出 14 025 360。

答案：\_\_\_\_\_

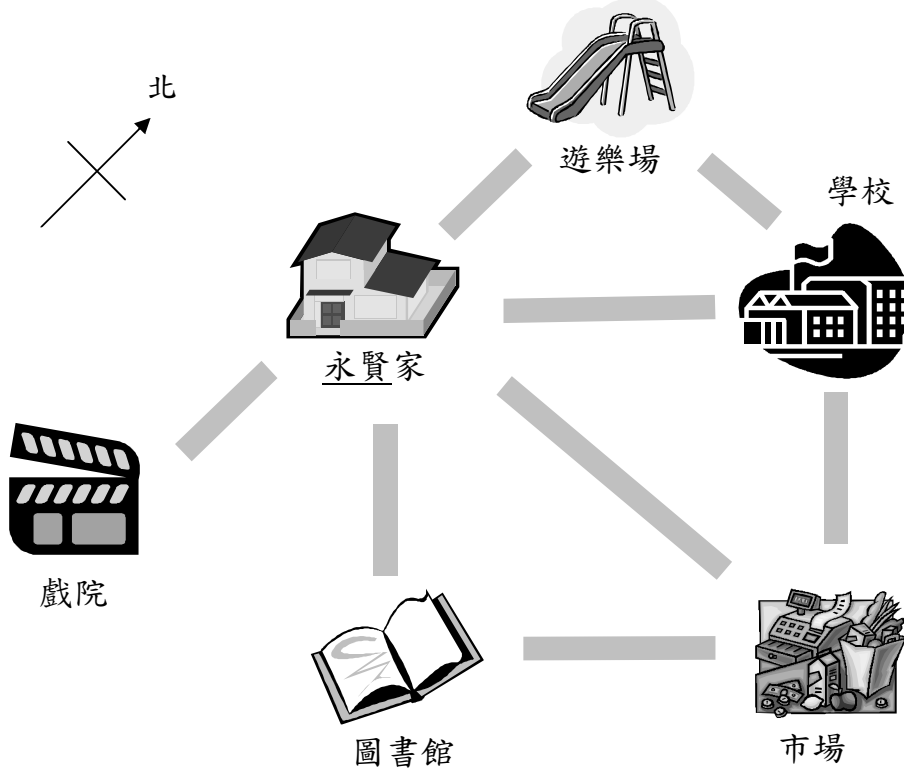
4. 小芬原有  $y$  元零用錢，用 25 元買了一個筆袋後，餘下\_\_\_\_\_元。

5.



左圖的面積是\_\_\_\_\_cm<sup>2</sup>。

6.



(a) 學校在市場的\_\_\_\_\_方。

(b) 永賢從家向東南方走，便會到達\_\_\_\_\_。

三、列式計算下列各題。(12% @4%)

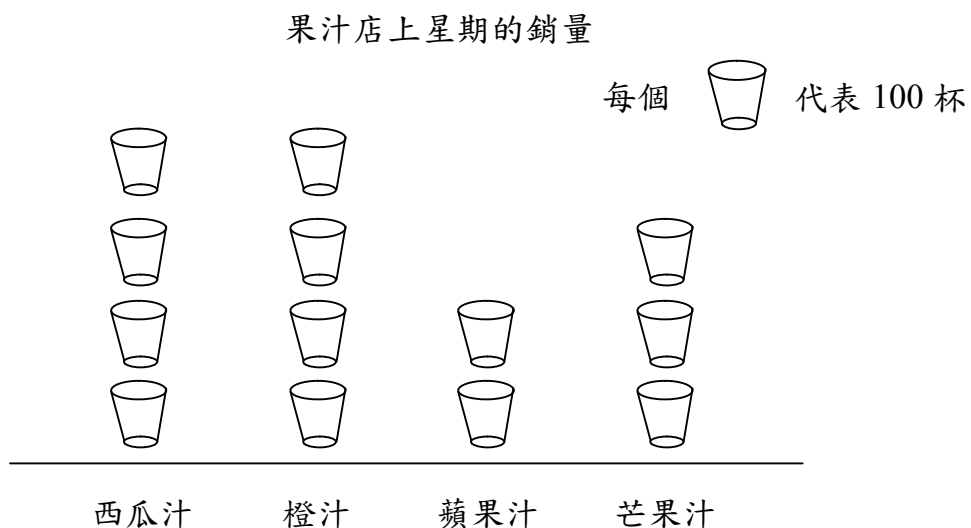
1. 媽媽買了一瓶  $1\frac{1}{2}$  升的果汁，弟弟喝去  $\frac{3}{5}$  升後，又買回一瓶  $\frac{3}{4}$  升的果汁，即現有果汁多少升？

2. 小詩今天用了  $1\frac{1}{5}$  小時溫習英文，溫習中文所用的時間是溫習英文的  $\frac{2}{3}$  倍，小詩今天溫習中文用了多少小時？

3. 詠儀有  $8\frac{1}{2}$  米黃色絲帶和  $6\frac{2}{5}$  米紫色絲帶，她共有絲帶多少米？

四、根據象形圖，回答下列問題。(6% @2%)

下圖顯示果汁店上星期各種果汁的銷售情況：



- 橙汁和\_\_\_\_\_汁的銷量相同，各售出\_\_\_\_\_杯。
- \_\_\_\_\_汁的銷量最少，只售出\_\_\_\_\_杯。
- 每杯果汁售 7 元，果汁店上星期共收得\_\_\_\_\_元。