

MY CLASSROOM 電子試卷②

小學三年級 上學期 數學科

姓名：_____

班別：_____()

分數：

／50

一、計算下列各題。(16% @2%)

1. $1254+3760 =$ _____

2. $5280-3071 =$ _____

3. $1685+6039-2264 =$ _____

4. $4938-1542+3610 =$ _____

5. $98\times 7 =$ _____


6. $273\times 6 =$ _____

7. $76\div 3 =$ _____

8. $432\div 8 =$ _____

二、回答下列各題。(22% @2%)

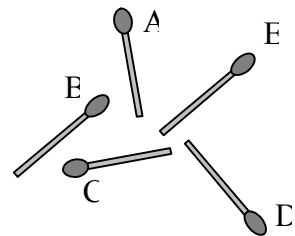
1.




用上面的數字卡可排出最大的五位雙數是：

--	--	--	--	--

2. 右圖中，火柴 E 和火柴_____
互相垂直。



3. 右面的時鐘顯示的時間比小明家的慢了2分鐘20秒，小明家的時鐘現在顯示的時間是_____時_____分_____秒。



4. 在「63720」這個數裏，萬位的數字是_____。

5. 填上適當的長度單位。

(a) 青馬大橋約長3_____。

(b) 一隻拇指約長40_____。

6. 以下哪項是平行四邊形的特性？


A. 四條邊的長度相等

B. 對邊平行


C. 有四個直角

D. 只有一組對邊平行

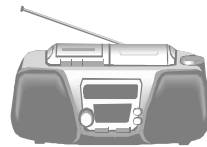
7.



\$6899



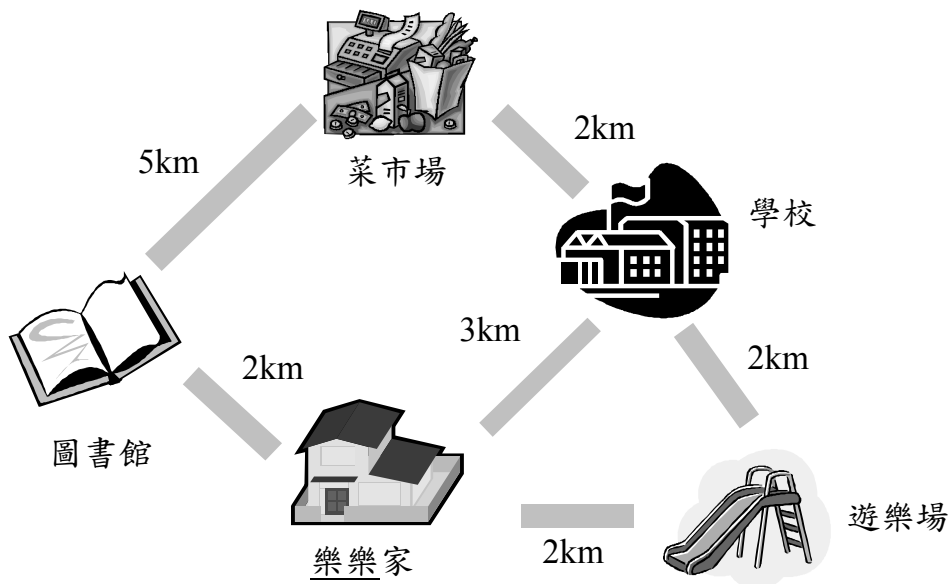
\$642



\$1500

爸爸想購買一部電腦和一部收音機，共需付_____元。

8.

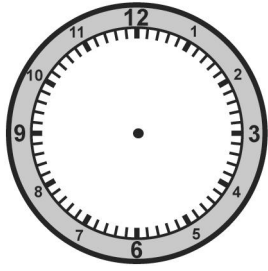


樂樂從家裏出發去菜市場。

(a) 最近的路程要先經過_____。

(b) 如要經過遊樂場，最短的路程長_____公里。

9. 在鐘面上畫出小浩的手錶顯示的時間。



小浩的手錶

三、列式計算下列各題。(12% @4%)

1. 本月有 4602 人參加本地旅遊團，比上月多 2138 人。兩個月共有多
少人參加本地旅遊團？

2. 小堅有 40 元，他最多可買蛋撻
多少件？



3. 一輛巴士可載 113 名乘客，九輛巴士最多可載乘客多少名？