

MY CLASSROOM 電子試卷①

小學五年級 上學期 數學科

姓名：_____

班別：_____()

分數：

／50

一、計算下列各題。(16% @2%)

1. $176 \div (53 - 42) =$ _____

2. $(218 + 354) \div 26 =$ _____

3. $81 \times 4 \div 6 =$ _____

4. $(15 + 62) \times (78 - 23) =$ _____

5. $(150 \div 3 - 12) \times 2 =$ _____

6. $1\frac{2}{7} - \frac{5}{7} =$ _____

7. $\frac{3}{8} + \frac{5}{8} + 2\frac{1}{8} =$ _____

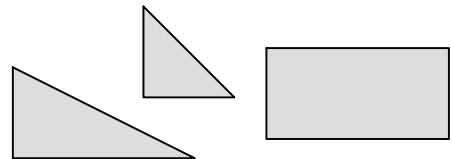
8. $\frac{8}{9} + \frac{4}{9} - 1\frac{2}{9} =$ _____

二、回答下列各題。(16% @2%)

1. $\frac{13}{10}$ 是_____ (帶分數/假分數/真分數)。

2. 一個正方形花圃的周界是 752 厘米，即是_____ 米。

3. 用右面的圖形可以拼砌出一個_____ (平行四邊形/梯形/正方形)。

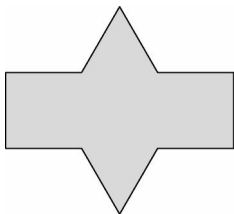


4. 5.28, 5.082, 5.802 這三個小數中，_____ 的數值最小。

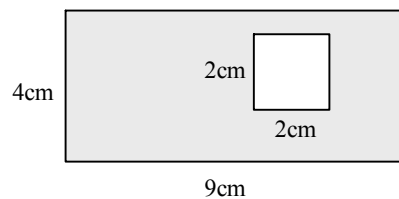
5. $\frac{18}{30} = \frac{\boxed{}}{10}$

6. 在「15.276」中，十分位的數字是_____。

7. 在下圖加上所有對稱軸。



8.



上圖中陰影部分的面積是 _____ cm^2 。

三、列式計算下列各題。(12% @4%)

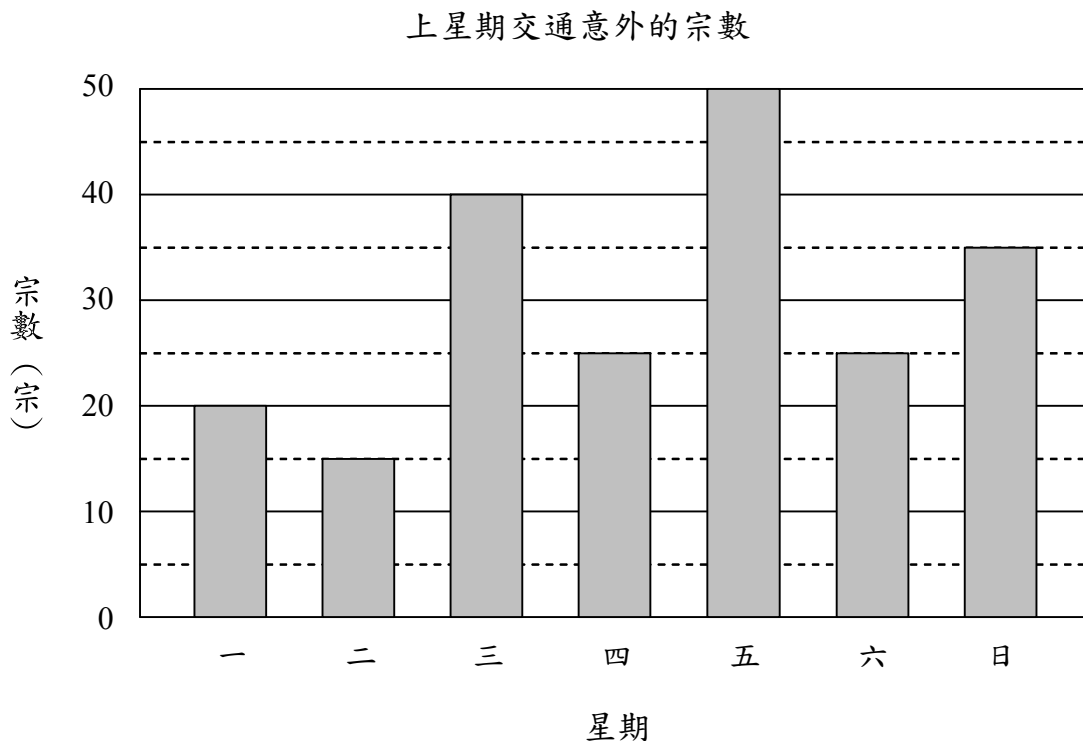
1. 餐廳每天提供兩款午餐，午餐 A 和午餐 B 分別售\$50 和\$30。今天下午一時至二時，餐廳共售出 23 份午餐，其中 14 份是午餐 A，即餐廳共收得多少元？

2. 哥哥體重 $34\frac{1}{5}$ 公斤，弟弟比他輕 $2\frac{3}{5}$ 公斤，他們共重多少公斤？

3. 每個杯子原價 20 元，現在買三送一。買四個杯子，即每個售多少元？

四、根據棒形圖，回答下列問題。(6% @2%)

統計專員記錄了上星期交通意外的宗數，並製作了以下的棒形圖。



1. 在上星期，星期_____和星期_____發生了相同數量的交通意外。
2. 上星期_____發生了最少交通意外，只有_____宗。
3. 上星期平均每天發生了_____宗交通意外。