

MY CLASSROOM 電子試卷①

小學四年級 上學期 數學科

姓名：_____

班別：_____()

分數：

50

一、計算下列各題。(12% @2%)

1. $165 - (240 - 98) =$ _____

2. $430 - (117 + 282) =$ _____

3. $(231 - 185) \times 8 =$ _____

4. $7 \times (36 + 28) =$ _____

5. $45 \times 5 + 768 =$ _____

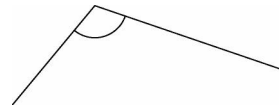
6. $4 \times 51 - 176 =$ _____

二、回答下列各題。(16%，每個答案 2%)

1. _____ 三角形所有邊的長度相等。

2. (a) 右面的角是_____ (鈍/銳)角。

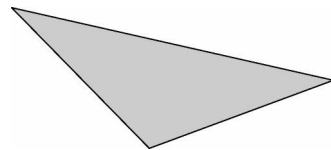
(b) 右面的角比直角_____ (大/小)。



3. 用 24 小時報時制寫出 9:52 p.m.。


答案：_____

4. 右圖是一個_____ 三角形。



5. $\frac{5}{6}$, $\frac{5}{3}$, $\frac{5}{12}$ 這三個分數中，_____ 的數值最大。

6.




1L25mL

這瓶果汁的容量是

_____ mL。

7. 在下面用直尺繪畫一個直角三角形。



三、列式計算下列各題。(16% @4%)

- 有 340 名小學生參加了文化交流團，其中 216 名來自香港，35 名來自台灣，其餘的來自廣州。即來自廣州的小學生有多少名？

- 每個網球售 50 元，足球的售價是網球的 5 倍少 16 元，每個足球售多少元？

- 每卷藍色絲帶長 25 厘米，每卷黃色絲帶長 18 厘米，1 卷藍色絲帶和 4 卷黃色絲帶共長多少厘米？

- 一個蛋糕原價 110 元，現在減價 18 元。買三個蛋糕共需付多少元？

四、根據下列表格，製作方塊圖。(6% @2%)

大明調查了同學們最喜愛的水果。

水果	橙	蘋果	香蕉	西瓜	芒果
人數(人)		++++			

1. _____

