

MY CLASSROOM 電子試卷①

小學三年級 上學期 數學科

姓名：_____

班別：_____ ()

分數：

50

一、計算下列各題。(12% @2%)

1. $537 - 104 =$ _____

2. $820 - 139 =$ _____

3. $716 - 254 - 308 =$ _____

4. $426 + 115 - 387 =$ _____

5. $54 \div 6 =$ _____

6. $38 \div 5 =$ _____

二、回答下列各題。(18% @2%)

1. 在「1093」這個數裏，「1」在_____位，代表_____。

2. 永心面向東方，向左轉一個直角後，他面向_____方。

3. 棒棒糖和雪糕共值_____元_____角。




4. 一隻手錶的重量單位應是_____ (克/公斤)。

5. 一張  可換_____個 .

6. $8 \times$ _____ $= 40$ ， $40 \div 8 =$ _____

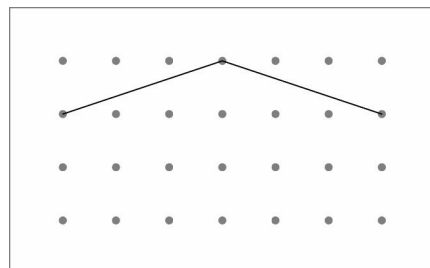
7. 正方形和長方形各有_____個直角。

8.



西瓜重_____。

9. 在下面的釘板上加上直線連成一個菱形。



三、列式計算下列各題。(12% @4%)

1. 農場裏原有 812 隻雞和 674 隻鴨子，賣去 295 隻鴨子後，餘下鴨子多少隻？

2. 每枝畫筆售 3 元，20 元最多可買畫筆多少枝？餘下多少元？


3. 火車上原有 245 名乘客，到站後，有 116 人下車，108 人上車，火車上現有乘客多少名？

四、根據象形圖，回答下列各題。(8% @2%)

小光調查了同學們喜愛的運動。

同學們喜愛的運動

1 個圖形代表 1 人



1. 喜愛游泳的同學有_____人。
2. 喜愛羽毛球和喜愛_____的人數相同。
3. 喜愛_____的人數是喜愛排球的 3 倍。
4. 小光共訪問了_____位同學。